

## Банк заданий

### на уроках технологии для формирования функциональной грамотности учеников

#### 1. Читательская грамотность

##### Задание 1. Прочитайте текст и ответьте на вопросы.

Дерево – одно из самых удивительных и самых совершенных созданий природы. С давних времен деревья были предметом восхищения людей. Им поклонялись друиды и древние славяне, позднее они служили источником вдохновения для поэтов, художников, архитекторов, скульпторов, мастеров декоративно-прикладного искусства. Древесина обладает различными свойствами, как и разные материалы. Древесина разных пород бывает более легкой и тяжелой, т.е. менее плотной и более плотной.

Разные породы древесины имеют разную плотность.

Высокая плотность – дуб, береза, лиственница, клен, яблоня, груша примерно от 700 до 900 (кг/м<sup>3</sup>); Средняя плотность – конский каштан, орех грецкий, вишня, тиковое дерево, бук от 560-700 (кг/м<sup>3</sup>); Низкая плотность – липа, тополь, кедр, вяз, ель, сосна – от 400 до 600 (кг/м<sup>3</sup>); Древесину с высокой плотностью труднее обрабатывать, но зато такая древесина меньше подвержена изнашиванию.

Следующее из физических свойств древесины влажность. Влажность древесины выражается в процентах.

Различают следующие ступени влажности древесины:

- мокрая – длительное время находившаяся в воде, влажность выше 100%;
- свежесрубленная – влажность 50-100%;
- воздушно-сухая – долгое время хранившаяся на воздухе, влажность – 15–20% (в зависимости от климатических условий и времени года);
- комнатно-сухая – влажность – 8-12%
- абсолютно сухая – влажность – 0%.

Не мало важное свойство древесины – цвет. Цвет зависит от условий, где росло дерево и от возраста. Текстура – естественный рисунок на срезе древесины. И зависит от породы древесины и от направления среза. Теплопроводностью древесины называется ее способность проводить тепло через свою толщину от одной поверхности к другой. Теплопроводность сухой древесины незначительна, что объясняется пористостью ее строения. Электропроводность древесины характеризуется ее сопротивлением прохождению электрического тока. Она зависит от породы, температуры, направления волокон и ее влажности. Звукопроводимость – свойство материала проводить звук с определенной скоростью.

К механическим свойствам древесины относятся: прочность, твердость, жесткость, ударная вязкость и другие.

*Вопрос 1.* Зачем знать свойства древесины?

*Вопрос 2.* С какой целью сушат древесину?

*Вопрос 3.* Какие свойства нужно учитывать при выборе заготовок?

##### Задание 2. Прочитайте текст и ответьте на вопросы.

Группа британских ученых разрабатывает «умную» одежду, которая поможет детям с отклонениями в развитии «заговорить». Ребенка, одетого в жилет из уникального электротекстиля, который подсоединен к синтезатору речи, можно будет понять просто по его постукиванию по чувствительной к прикосновению ткани.

Материал сделан из обычной ткани, переплетенной содержащими уголь волокнами, которые могут проводить электрический ток. При надавливании на ткань, сигнал, проходящий через волокна-проводники, усиливается, и компьютерный элемент может определить место прикосновения на ткани. Этот элемент может управлять любым подсоединенным к нему электронным устройством, размеры которого не превысят двух спичечных коробков.

«Главное заключается в том, как мы переплетаем ткань и передаем через нее сигналы: мы можем вплести специальные волокна в уже существующие рисунки тканей так, что вы этого не заметите», - говорит один из ученых.

Не повредив материал, его можно стирать, наматывать вокруг предметов или складывать. Ученый говорит также, что материал можно запустить в дешевое массовое производство.

**Вопрос 1:** Можно ли качества материала, о которых говорилось в тексте, проверить с помощью научного эксперимента в лаборатории?

Обведите «Да» или «Нет».

Материал можно

Может ли качество материала быть проверено с помощью научного эксперимента в лаборатории?

стирать, не повредив его

Да/Нет

наматывать вокруг предметов, не повредив его

Да/Нет

складывать, не повредив его

Да/Нет

запустить в дешевое массовое производство

Да/Нет

### Задание 3. Прочитайте текст и ответьте на вопросы.

В мегаполисах, где отдается много природного пространства под застройку, зеленая кровля является идеальным решением для компенсации ущерба, нанесенного природе. Этот способ устройства крыши стал особо актуален с учетом того обстоятельства, что стоимость квадратного метра земли чрезвычайно высока, и использование свободных площадей крыш дало возможность восполнить дефицит зеленых зон, устраивать на крышах зданий места для отдыха и проведения досуга.

Озеленение крыш - термин, обозначающий частично или полностью засаженные живыми растениями крыши зданий.

Родиной "зеленых крыш" считают Ассирию и Вавилон (2500 лет назад). Но самыми известными, конечно же, остаются висячие сады Семирамиды, известные как седьмое чудо света.

Сегодня лидерами по части взращивания зеленых культур на крышах являются Великобритания, США, Германия и Швейцария.

Создание зеленых крыш выгодно по нескольким причинам:

1. Зеленые крыши фильтруют воздух, борясь с различными его загрязнениями, в том числе с CO<sub>2</sub> (углекислый газ).

2. Растительность и почва обеспечивают хорошую шумоизоляцию.

3. Зеленые крыши накапливают ливневую воду, её можно очистить и применять в быту.

4. Зеленые крыши отфильтровывают тяжелые металлы и другие загрязняющие компоненты дождевой воды.

5. Наличие зеленых крыш увеличивает количество представителей живой природы на застроенной городской территории.

Однако несмотря на то, что тяжелая экологическая обстановка в Казахстане требует заботы о чистоте окружающей среды, напрямую влияющей на здоровье граждан, идею зеленых крыш не разрабатывают в республике, ссылаясь на климатические условия.

В городе на сегодняшний день всего 7 парков и 28 скверов и бульваров. При численности населения 453 тысячи человек на каждого жителя приходится 6,4 кв.м зеленых насаждений общего пользования, что составляет только 40% от нормативных рекомендаций. Где же выход?

**Вопрос 1.** Опираясь на текст, ответь, почему в современном мире стали актуальными «зеленые крыши»?

**Вопрос 2.** Используя информацию из текста, заполните таблицу. Поставьте знак «+» в колонку с правильным ответом.

	Да	Нет	Нет информации
Родиной «зеленых крыш» являются Ассирия и Вавилон			
Понятия «зеленые крыши» и «зеленые легкие земли» являются синонимичными			
Лидером по озеленению крыш является Япония			
В нашей стране ведется активная			
«Зеленые крыши» можно использовать для выращивания овощей, фруктов и прочей зелени			

*Вопрос 3.* Рассмотрите эти два рисунка. Что между ними общего и чем они различаются? Запишите свой ответ



*Вопрос 4.* Согласны ли вы с тем, что «зеленые крыши» порой называют «пятым фасадом» здания? Свой ответ аргументируйте.

## **2. Математическая грамотность**

### **Задание 1.**

«Приготовьте» завтрак на восемь человека, рассчитайте и вставьте пропущенные цифры в таблице:

Блюдо	продукты	Количество продуктов на одного человека	Количество продуктов на восемь человек
Бутерброд	Хлеб	2 ломтика	
	Сливочное масло	10 г	
	Сыр	30 г	
	Зелень (овощи)	15 г	
Чай	Заварка	5 г	
	Сахар	30 г	

### **Задание 2.**

Рассчитайте и вставьте пропущенные цифры в таблице приготовления ужина (Макароны с сыром и овощами) на 6 человек.

Блюдо	Продукты	Количество продуктов на пять человек	Количество продуктов на шесть человек
Макароны с сыром и овощами	Макароны	500г	
	Помидоры		6 шт
	Твёрдый сыр		300 г
	Масло сливочное	75 г	
	Соль	По вкусу	

### Задание 3.

Рассчитайте себестоимость продуктов для крема желированного (8 порций), вставьте цифры в таблице. Сколько будет стоить одна порция крема желированного?

№ п/п	Наименование продукта	Цена за единицу, руб.	Необходимое количество	Стоимость, руб.
1	Бананы	70,00 за 1 кг	500 г	
2	Желатин	19,00 пачка	1 пачка	
3	Сметана	78,00/ за банку 500 г	500 г	
4	Сгущенное молоко	62,00/за банку	1 шт.	
5	Орехи грецкие	800,00 за 1 кг	20 г	
6	Консервированные персики	86,00/ за банку	½ банки	
			Итого:	

### Задание 4.

Рассчитайте пищевую ценность, калорийность и вставьте пропущенные цифры в таблице при приготовлении желе.

№ п/п	Наименование продукта	Белки в г.	Жиры в г.	Углеводы в г.	Энергетическая ценность в ккал.
1	Апельсины	3,6	-	33,6	
2	Желатин	8,72	0,04	0,07	
3	Сахар	0,3	-	99,5	
4	Вода	-	-	-	
	Выход 4 порции	12,62	0,04	133,17	

1 порция желе содержит (вставьте пропущенные цифры):

Белки – \_\_\_\_\_; Жиры – \_\_\_\_\_; Углеводы – \_\_\_\_\_;

Энергетическая ценность – \_\_\_\_\_ ккал.

### Задание 5.

Завтра день рождение мамы. Мы с мамой составили меню на праздничный семейный обед и список продуктов, которые надо купить в магазине. Я отправилась за покупками. Мама дала мне 1000 руб. и список необходимых покупок: черный хлеб, 200 грамм сыра «Ламбер», колбаса сервелат Киевский 400 грамм, мороженое пломбир «48 копеек» 500 грамм, 1 кг мандарины, 1 кг груша, конфеты «Мишка косолапый». Но мне так хотелось выкроить из этой суммы немного денег

и купить маме цветок. Поблизости находилось два магазина «5» и «Магнит», со следующими ценами на интересующий товар.

Продукты	«5»	«Магнит»
Черный хлеб	37,00	32,00
Сыр «Ламбер», 200гр.	186,00	182,00
Сервелат «Киевский», 400гр.	227,00	Акция 178,00
Мороженое пломбир «48 копеек» 500 гр.	Акция 199,90	256,00
Мандарины, 1 кг.	65,00	65,00
Груша, 1 кг.	148,00	119,00
Конфеты, 200гр.	Акция 90,00	145,00
Цветок «Роза»	120,00	Акция 95,00

1. Предложите, как лучше всего поступить девочке? Ответ обоснуйте.

2. Вопросы для обсуждения:

Как сэкономить деньги при покупке?

Представьте, что вы директор продуктового магазина. На какие товары вы бы сделали скидки осенью?

#### **Задание 6.**

Нужно сделать ремонт в комнате с высотой 2,5 м, шириной 5 м и длиной 6 м. Найти площадь поверхности стен. Сколько рулонов обоев понадобится для оклейки стен, если ширина одного рулона 60 см, длина 10м.

Сколько при этом понадобится денег, если стоимость одного рулона 800 рублей, а одна пачка клея стоит 300 рублей. И ее расход 10 м<sup>2</sup>.

Сколько % отходов обоев при этом получится?

В комнате имеются две двери 2 и три окна размерами 1,4 . Вычислите площадь стен без окон и дверей, если размеры комнаты : высота 2,5 м, ширина 5 м, длина 6 м.

Сколько потребуется рулонов обоев для оклейки данной комнаты, если обои размерами 0,6\*10 м.

Каковы затраты если цена одного рулона 800 рублей, а цена пачки клея 300 рублей. Расход 10м<sup>2</sup>.

Сколько % отходов обоев при этом получится?

#### **Задание 7.**

Одно растение василька производит в среднем 1500 семян. Семена сохраняют всхожесть до 10 лет.

Определите запасы семян этого сорняка в почве после 5 лет засорения им посевов на одном поле.

#### **Задание 8.**

Рассчитайте стоимость детали, выполненной из заготовки призматической формы (бруса), если длина детали -100мм, ширина-100мм, высота-20мм. Цена 1метра бруса 200руб. (не забудьте, что размеры заготовки на 5–10 миллиметров больше с каждой стороны, чем размер детали).

#### **Задание 9.**

Сколько краски потребуется для покрытия фронтона дома с двух сторон? Крыша двускатная.

Ширина дома 12 м., расстояние от конька крыши до кирпичной кладки стен 2 м. Расход краски на 1 кв. м. 300 грамм.

#### **Задание 10.**

В преддверии праздника 8 Марта вам необходимо изготавливать подарок близким людям. Этим подарком будет фартук. Вам предстоит его выкроить из бумажной ткани, чтобы повторить правила раскроя.

Составьте модель (фасон) фартука, используя геометрические фигуры. Модель обвести на бумаге.

Назовите, из каких фигур и в каком количестве состоит чертеж фартука.

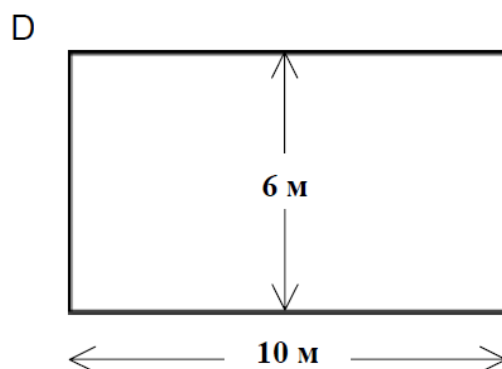
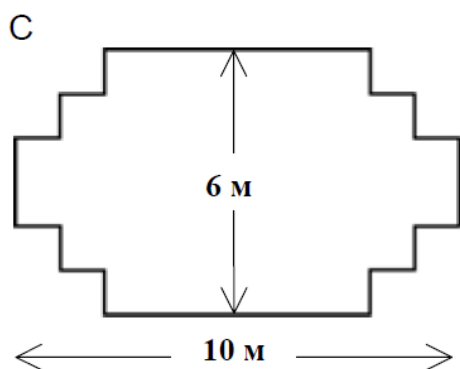
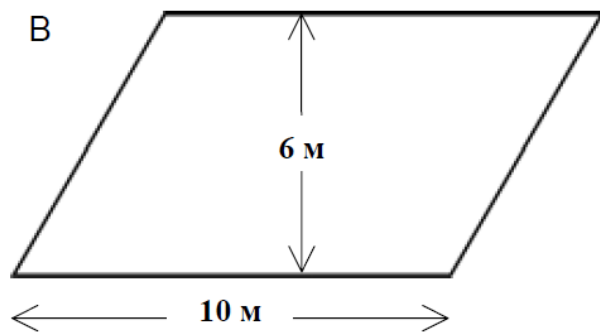
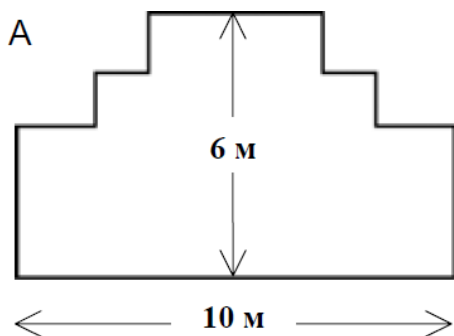
Запишите формулу для нахождения площади фигуры.

Найти площадь каждой фигуры, входящей в состав общей фигуры.

Найдите общую площадь.

**Задание 6.**

У садовника имеется 32 м провода, которым он хочет обозначить на земле границу клумбы. Форму клумбы ему надо выбрать из следующих вариантов.



Обведите слово «Да» или «Нет» около каждой формы клумбы в зависимости от того, хватит или не хватит садовнику 32 м провода, чтобы обозначить ее границу.

Форма А Да / Нет

Форма В Да / Нет

Форма С Да / Нет


Форма D Да / Нет

**Задание 7.**

Чтобы собрать один комплект книжных полок, плотнику нужны следующие детали: 4 длинных деревянных панели, 6 коротких деревянных панелей, 12 маленьких скоб, 2 больших скобы и 14 шурупов.

У плотника есть 26 длинных деревянных панелей, 33 коротких панели, 200 маленьких скоб, 20 больших скоб и 510 шурупов.

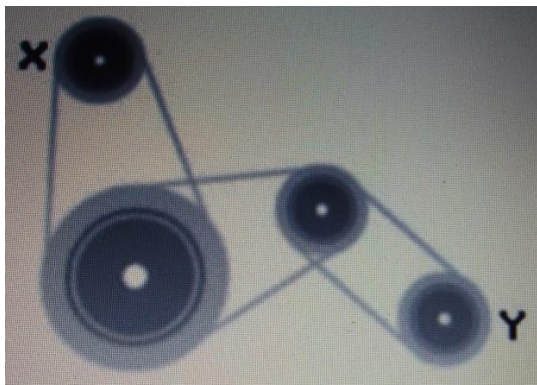
Какое наибольшее число комплектов книжных полок может собрать из этих деталей плотник?



Ответ: .....

**Задание 8.**

Если шкив X ременной передачи (см. рис) вращается с постоянной скоростью по часовой стрелке, то в какую сторону и с какой скоростью вращается шкив Y.



- а) по часовой стрелке, заметно быстрее, чем шкив X
- б) против часовой стрелки, заметно медленнее, чем шкив X
- в) по часовой стрелке, заметно медленнее, чем шкив X
- г) по часовой стрелке, примерно с той же скоростью, что и шкив X
- д) против часовой стрелки, заметно быстрее, чем шкив X

**Задание 9.**

В Приложении внимательно рассмотрите цветные изображения моделей, выполненных из деталей конструктора ЛЕГО.



Модель 1



Модель 2




Модель 3



Модель 4

1. Определите, какой из моделей соответствует данный набор деталей. Укажите номер этой модели.





Ответ: модель №

2) Перед Вами детали конструктора.



1



2



3



4



5



6



7



8



9



10



11

Укажите номера деталей, которые необходимы для сборки модели 4.

Ответ: \_\_\_\_\_

Опишите последовательность сборки модели 4 так, чтобы по описанию можно было повторить сборку модели.

Ответ: \_\_\_\_\_

### 3. Естественнонаучная грамотность

#### Задание 1.

В приведенной ниже таблице даны два рецепта косметических средств, которые вы можете сделать сами. Губная помада тверже мягкого, кремообразного блеска для губ.

Блеск для губ	Губная помада
<p>Компоненты:</p> <p>5 г касторового масла 0,2 г пчелиного воска 0,2 г пальмового воска</p> <p>1 чайная ложка красителя</p> <p>1 капля пищевого ароматизатора</p>	<p>Компоненты:</p> <p>5 г касторового масла 1 г пчелиного воска</p> <p>1 г пальмового воска</p> <p>1 чайная ложка красителя</p> <p>1 капля пищевого ароматизатора</p>
<p>Инструкция:</p> <p>Нагревайте масло и воск на водяной бане до тех пор, пока не получится однородная смесь. Затем добавьте краситель и пищевой ароматизатор и все перемешайте.</p>	<p>Инструкция:</p> <p>Нагревайте масло и воск на водяной бане до тех пор, пока не получится однородная смесь. Затем добавьте краситель и пищевой ароматизатор и все перемешайте.</p>



*Вопрос 1.* В процессе изготовления блеска для губ и губной помады смешиваются масло и воск. Затем добавляются краситель и пищевой ароматизатор. Губная помада, приготовленная по этому рецепту, получается твердой и не удобной для использования. Как бы вы изменили пропорцию ее компонентов, чтобы помада получилась более мягкой?

*Вопрос 2.* Масло и воск – вещества, которые легко смешиваются. Масло нельзя смешать с водой, а воск не растворяется в воде. Что из перечисленного ниже, скорее всего, случится, если во время нагревания смеси для губной помады в нее попадет большое количество воды?

- A Получится кремообразная, более мягкая смесь.
- B Смесь станет более твердой.
- C Смесь вряд ли вообще изменится.
- D Жирные комочки смеси всплывут на поверхность воды.

*Вопрос 3.* Если добавить вещества, называемые эмульгаторами, то они позволят маслу и воску хорошо смешиваться с водой. Почему мыло и вода смывают помаду?

- A Вода содержит эмульгатор, который позволяет смешиваться мылу с помадой.
- B Мыло действует как эмульгатор, что позволяет смешиваться воде с помадой.
- C Эмульгаторы в помаде позволяют смешиваться мылу с водой.
- D Мыло и помада соединяются, образуя эмульгатор, который смешивается с водой.

## **Задание 2.**

При приготовлении теста для хлеба повар смешивает муку, воду, соль и дрожжи. После этого тесто помещают на несколько часов в какую-нибудь емкость, чтобы начался процесс брожения. При брожении в тесте происходят химические процессы: дрожжи (одноклеточный гриб) преобразуют крахмал и сахар, содержащиеся в муке, в углекислый газ и спирт.

*Вопрос 1.* В результате брожения тесто поднимается. Почему тесто поднимается? A Тесто поднимается, потому что в нем образуется спирт, который переходит в газообразное состояние. B Тесто поднимается, потому что в нем размножаются одноклеточные грибы. C Тесто поднимается, потому что в нем образуется углекислый газ. D Тесто поднимается, потому что при брожении вода превращается в пар.

*Вопрос 2.* Через несколько часов после приготовления теста повар взвешивает его и обнаруживает, что масса теста уменьшилась, являются ли дрожжи причиной уменьшения массы теста?

*Вопрос 3.* Дрожжи в тесте в результате химической реакции превращают крахмал и сахар, содержащиеся в муке, в углекислый газ и спирт.

Откуда появляются атомы углерода, входящие в состав углекислого газа и спирта?

Обведите «Да» или «Нет» для каждого из приведенных ниже возможных объяснений.

<i>Является ли это верным объяснением появления атомов углерода?</i>	<i>Да или Нет?</i>
<i>Некоторые атомы углерода поступают Из сахара.</i>	<i>Да / Нет</i>
<i>Некоторые атомы углерода входят в Состав молекулы соли.</i>	<i>Да / Нет</i>
<i>Некоторые атомы углерода поступают из воды.</i>	<i>Да / Нет</i>

*Вопрос 4.* Когда подошедшее дрожжевое тесто ставят в печь, пузырьки газа и паров теста расширяются. Почему газ и пар расширяются при нагревании? A Их молекулы становятся больше. B Их молекулы двигаются быстрее. C Число их молекул увеличивается. D Их молекулы сталкиваются реже.

## **4. Финансовая грамотность**

### **Задание 1.**

У вас проблема – сломалась газовая плита. Ремонт старой обойдётся дороже её стоимости. Новая газовая плита стоит 25000 рублей. Вы решили воспользоваться потребительским кредитом, цена которого равна 20% годовых. Рассчитайте, сколько вам придётся заплатить, в конечном счёте, если вы оформите кредит на 1 год. Оцените, исходя из вашего семейного бюджета, на сколько изменятся ваши ежемесячные расходы, если каждый месяц вы будете вносить одну и ту же сумму.

### **Задание 2.**

Предположим, у вас имеются свободные средства в размере 100 000 рублей. Банк предлагает вам разместить эти средства под 5% годовых. Рассчитайте, какая сумма будет у вас на счете через 2 года:

- если процент простой, т.е. одна и та же сумма прибавляется каждый год;
- если процент сложный и по истечении первого года происходит процента на процент.

### **Задание 3.**

Наша семья состоит из 4 человек: мама, папа, моя старшая сестра и я (Алексей). Мама работает оператором на нашем нефтеперерабатывающем заводе и получает заработную плату 27000,00 рублей. Папа работает водителем на предприятии САМАРА АВТО 2000 и получает заработную плату 29000,00 рублей. Сестра Оля – студентка, получает стипендию 960 рублей и работает по вечерам, получает заработную плату 14000 рублей. Мы очень любим природу и часто летом стараемся отдыхать с семьей, выезжая за пределы города. Мама и папа стали задумываться, а не купить ли нам автомобиль? Это будет и дешевле и наверное более практичнее для нас, так как постоянно пользоваться такси стало дорого.

1. Сможет ли наша семья, а конкретно папа, оформить кредит?
2. Какая приблизительно ежемесячная плата будет по кредиту и сможет ли наша семья выплачивать данную сумму?

### **Задание 4.**

Однажды Иван и Степан были приглашены организаторами праздничного стола на День рождения в сказочную страну. Они дружно взялись за подготовку предложенного им мероприятия, составили список, что им нужно приготовить:

- продукты
- посуду
- украшение стола

#### **I. Для угощения**

Для угощения Степан составил меню:

- 1) Салат
- 2) Пирожные
- 3) Напиток

В библиотеке знаменитого повара он нашел интересную статью Салат «Оливье»

Салат Оливье существует очень давно и пользуется огромной популярностью. Изобрел этот салат в 1860-е годы повар-француз Люсьен Оливье - владелец трактира "Эрмитаж" на Трубной площади. В "Эрмитаже" можно было отведать те же кушанья, которые подавались в особняках вельмож. Главной достопримечательностью эрмитажной кухни был изобретенный хозяином салат необычайного вкуса - "Салат Оливье", способ приготовления которого знаменитый повар держал в тайне. Многие повара пытались приготовить этот салат, но ни у кого он не получался. По

некоторым данным, первоначальный рецепт салата таков: 2 рябчика, телячий язык, полфунта свежего салата, 25 штук отварных раков, полбанки пикулей, два свежих огурца, четверть фунта каперсов, 5 яиц вкрутую.

Прошло много лет, но салат «Оливье» (другое название современного рецепта этого салата — «Зимний») остаётся незаменимым блюдом на праздничном столе. Простота изготовления и доступность продуктов сделали этот салат чрезвычайно популярным.. Исходные компоненты салата «Оливье»: мясо дичи, картофель, морковь, лук, маринованные огурцы, яблоко, зелёный горошек, яйца, соль, перец, майонез. Для салата «Оливье» очень важны пропорции.

На 6 порций нужно взять

Продукты	Количество
Картофель	6 штук
Морковь	2 штуки
Лук репчатый	2 штуки
Маринованные	1-2 штуки
Яблоки	1 штука
Яйца	4 штуки
Зелёный	1 стакан
Отварная	200
Майонез	1 банка

*Вопрос 1.* Иван отправился в магазин за продуктами, ему нужно было посчитать какую сумму денег взять с собой.

1.1. Подскажите какой информации не хватает Ивану в таблице выше, чтобы посчитать деньги?

- А) Сколько денег у него имеется?
- Б) Цены продуктов.
- В) Какая сумка нужна для каждого продукта?
- Г) В какой магазин он должен идти?

1.2. В первоначальном рецепте салата «Оливье» упоминаются пикули и каперсы. Каким словарём ты должен воспользоваться, чтобы узнать значение этих слов?

- А) Орфографическим словарем
- Б) Толковым словарем
- В) Словарём синонимов
- Г) Словарём антонимов
- Д) Этимологическим

1.3. Какую неизвестную вам величину содержит старинный рецепт, напишите. \_\_\_\_\_

1.4. В каком разделе справочника «Старинные меры» вы будете искать значение найденной вами величины?

- А) Меры длины
- Б) Меры массы
- В) Меры объема
- Г) Меры массы
- Д) Меры площади

*Вопрос 2.* Степан узнал, что на День рождения приглашено 18 гостей. Во сколько раз больше Иван должен купить продуктов на салат?

*Вопрос 3.* Тут же Степан взялся исправлять таблицу для Ивана. Помогите ему, заполните третий столбец таблицы.

Продукты	Количество	Новое количество - ?
Картофель	6 штук	
Морковь	2 штуки	
Лук репчатый	2 штуки	
Маринованные огурцы	1-2 штуки	
Яблоки	1 штука	
Яйца	4 штуки	
Зелёный горошек	1 стакан	
Отварная курица	200 граммов	
Майонез	1 банка	

Вопрос 4. Сколько килограммов картофеля нужно купить Ивану, если в одном килограмме содержится 6 штук?

Вопрос 5. Используя иллюстрацию с ценами сосчитайте, сколько денег потратит Иван на овощи для салата?

**ЦЕНЫ ПРОДУКТОВ**

Огурец 1 шт. - 7 руб.

Яйцо 1 шт. - 6 руб.

Картофель 1 кг - 18 руб.

Морковь 1 шт. - 5 руб.

Яблоко 1 шт. - 10 руб.

Зелёный горошек - 1 банка 40 руб.

Лук 1 шт. - 3 руб.

Курица 100 гр - 15 руб.

Майонез 1 банка - 30 руб.

*Вопрос 6.* Посчитайте, какую сумму денег потратит Иван на все продукты для салата.

***5. Креативное мышление***

***6. Глобальные компетенции***