

ШИФР:

01

† ВСЕРОССИЙСКАЯ ОЛИМПИАДА ШКОЛЬНИКОВ

ПО ТЕХНОЛОГИИ 2024–2025 уч. год

ШКОЛЬНЫЙ ЭТАП 5-6 КЛАССЫ

Профиль «Культура дома, дизайн и технологии»

ТЕОРЕТИЧЕСКИЙ ТУР

*Общая часть*

1. Ответ д
2. Ответ 2, 1, 3
3. Ответ 2 163 см
4. Ответ а
5. Ответ 25%

Максимальное количество-5 баллов

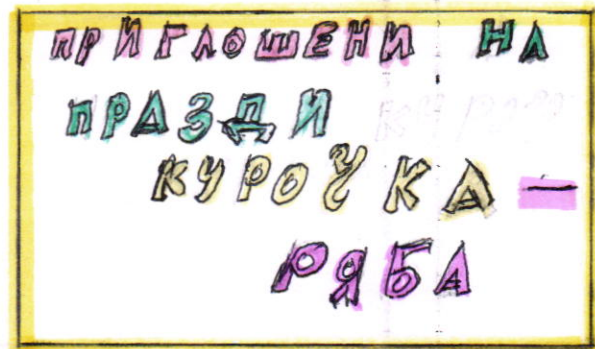
*Специальная часть*

6. Ответ шма
7. Ответ а
8. Ответ г
9. Ответ д, е, б
10. Ответ а, б, д, в, г
11. Ответ б
12. Ответ шма
13. Ответ а, е, б, в
14. Ответ б, б

Максимальное количество-14 баллов 14

15. Творческое задание. Максимальное количество- 6 баллов

15.1 Открытка-приглашение



ШИФР:

01

15.2 Текст приглашения на праздник

Дорогие гости приглашаем на праздник  
в честь сказки «Чародейка» - Фея.


15.3 Тематический карнавальный костюм для этого праздника



Оценочные баллы: максимальный – 20 баллов; фактический – 17 баллов.

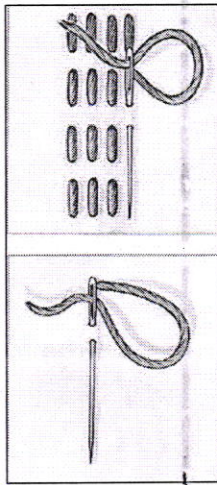
Подписи членов жюри \_\_\_\_\_

13. (1 балл) Выберите все инструменты и приспособления, с помощью которых можно выполнить вышивку «Сова».



- а) нитки мулине
- б) ткань – канва
- в) булавака
- г) пяльца деревянные
- д) тесьма
- е) игла
- ж) портновский мел

14. (1 балл) Как называется такой стежок?



- а) крестообразный
- б) прямой
- в) косой
- г) петельный

15. Творческое задание (6 баллов)

Подготовьте праздник по мотивам русской народной сказки «Курочка Ряба»



15.1 Нарисуйте открытку-приглашение (2 балла)


15.2 Придумайте текст приглашения на праздник (1 балл)

15.3 Нарисуйте тематический карнавальный костюм для этого праздника(3 балла)



3. (1 балл) При благоустройстве парка было решено посыпать несколько тропинок песком. Длины тропинок равны 5 м, 112 дм, 318 см и 225 см. Определите общую длину тропинок, которые решили посыпать песком. Ответ дайте в сантиметрах.

4. (1 балл) Выберите, к какому виду художественной росписи относится изделие, изображённое на рисунке.




- а) гжельская роспись б) мезенская роспись в) гордецкая роспись  
г) жостовская роспись д) хохломская роспись е) семикаракорская роспись

5. (1 балл) Проезд на автобусе стоил 36 рублей. Сколько нужно заплатить рублей за проезд на автобусе семье, состоящей из папы, мамы, бабушки, дедушки, дяди и двух детей? Каждому члену семьи нужно приобрести билет за полную цену.


**Специальная часть**

6. (1 балл) Расположите буквы в правильном порядке, разгадайте зашифрованное слово, получите название рукоделия: а л к е п.

7. (1 балл) Какое изделие можно изготовить в технике рукоделия из предыдущего задания?



А



Б



В

8. (1 балл) Из предложенного списка выберите блюдо, в рецепт которого входят только пищевые продукты растительного происхождения.





- а) омлет б) какао в) суп харчо г) винегрет

9. (1 балл) Отгадайте загадку о пищевом продукте.  
«Ешь, да пей, Да гостям налей,  
И когу не пожалей!»

Из предложенного списка выберите все блюда, для приготовления которых используется этот пищевой продукт.

- а) харчо б) салат мимоза в) манная каша г) шлов  
д) какао е) молочный коктейль

10. (1 балл за полностью верный ответ) Внимательно рассмотрите изображения сервировки стола. Для каждого названия приёма пищи выберите одно, соответствующее ему изображение сервировки.

Названия приёмов пищи	
завтрак	обед
1	2
Изображения сервировки	
	
А	Б
	
В	Г

11. (1 балл) Из предложенного списка выберите слово, чтобы получить известную поговорку: «Каково волокно, таково и ...».

- а) толлокно б) полотно в) домино г) Бородно

12. (1 балл) Решите ребус. В ответ запишите только одно слово в именительном падеже.





ВСЕРОССИЙСКАЯ ОЛИМПИАДА ШКОЛЬНИКОВ  
 ПО ТЕХНОЛОГИИ 2024–2025 Уч. год  
 ШКОЛЬНЫЙ ЭТАП 5-6 КЛАССЫ  
 Профиль «Культура дома, дизайн и технологии»  
 ТЕОРЕТИЧЕСКИЙ ТУР

Общая часть

Уважаемый участник олимпиады!

Вам предстоит выполнить теоретические и тестовые задания.

Время выполнения заданий теоретического тура 2 академических часа (90 минут).

Выполнение заданий целесообразно организовать следующим образом:

- не спеша, внимательно формулируя задания;
- напишите правильный вариант ответа в бланке ответов;
- после выполнения всех предложенных заданий еще раз удостоверьтесь в правильности ваших ответов;
- если потребуется корректировка выбранного Вами варианта ответа, то неправильный вариант ответа зачеркните крестиком и рядом напишите новый.


Предупреждаем Вас, что:

- при оценке тестовых заданий, где необходимо определить один правильный ответ, 0 баллов выставляется за неверный ответ и в случае, если участником отмечены несколько ответов (в том числе правильный), или все ответы;
- если потребуется корректировка где необходимо определить все правильные ответы, 0 баллов выставляется, если участником отмечены неверные ответы, большее количество ответов, чем предусмотрено в задании (в том числе правильные ответы) или все ответы.

Задание теоретического тура считается выполненным, если Вы вовремя сдаете его членам жюри.

Максимальный балл за работу – 20.


1. (1 балл). Рассмотрите фотографию барельефа с изображениями работников МЧС (Министерство Российской Федерации по делам гражданской обороны, чрезвычайным ситуациям и ликвидации последствий стихийных бедствий).



Изображение представителя какой профессии приведено на данной фотографии?

- а) сангёр б) лёгчик в) водолаз г) кинолог д) пожарный

2. (1 балл) Рассмотрите предложенные фотографии и расположите данные объекты в порядке их изобретения.



ШИФР:

**ПИСЬМЕННАЯ РАБОТА УЧАСТНИКА  
ВСЕРОССИЙСКОЙ ОЛИМПИАДЫ ШКОЛЬНИКОВ  
ПО ТЕХНОЛОГИИ 2024-2025 УЧЕБНЫЙ ГОД  
ШКОЛЬНЫЙ ЭТАП**

КЛАСС

6Б

ОРАЗОВАТЕЛЬНОЕ УЧРЕЖДЕНИЕ УЧАСТНИКА ОЛИМПИАДЫ \_\_\_\_\_

(ПОЛНОЕ НАЗВАНИЕ УЧЕБНОГО ЗАВЕДЕНИЯ)

№ 509 СОШ № 13 НГТ Кузнецкий Тимирязевский район

Ф.И.О. (полностью)

Химченко Светлана Александровна

Дата проведения олимпиады

21.10.24



ШИФР:

ШИФР:

Карта пооперационного контроля практической работы  
Выполнение мотива вышивки «Яблоко»

Критерии оценки	Максимальный балл	Баллы по факту
Переведённый рисунок расположен точно по центру ткани	3	3
Тамбурный стежок выполнен в соответствии с техническими условиями	3	3
Стежок «назад иголку» выполнен в соответствии с техническими условиями	3	3
Стежок «вперёд иголку» выполнен в соответствии с техническими условиями	3	0
Стебельчатый стежок выполнен в соответствии с техническими условиями	3	3
Качественное выполнение работы с изнаночной стороны (равномерное затягивание стежков, отсутствие узелков, аккуратное заплетение ниток в начале и в конце работы)	4	2
Стежки выполнены по контуру рисунка	3	3
Полная гамма ниток подобрана в соответствии с мотивом вышивки (лист, яблоко)	3	3
Внешний вид вышивки	5	5
Отсутствие затягивания стежков, отсутствие узелков, аккуратное заплетение ниток в начале и в конце работы)	3	0
Чистота влажно-тепловая обработка изделия	3	0
Соблюдение правил безопасной работы и организация рабочего места	2	2
<b>Итого</b>	<b>35</b>	<b>27</b>

Подпись членов жюри \_\_\_\_\_

Подпись членов жюри \_\_\_\_\_